


**<低学年用>**

作成者：岡壯憲

**No.30**

かずをかぞえてみよう！(1)～(6)のそれぞれ、何個(なんこ)あるかな。



(       )こ



(       )こ



(       )ひき



(       )ひき



(       )にん



(       )こ

**楽しかったかな？最後に楽しかったことを書いてみよう**

Red-bordered box for writing answers.



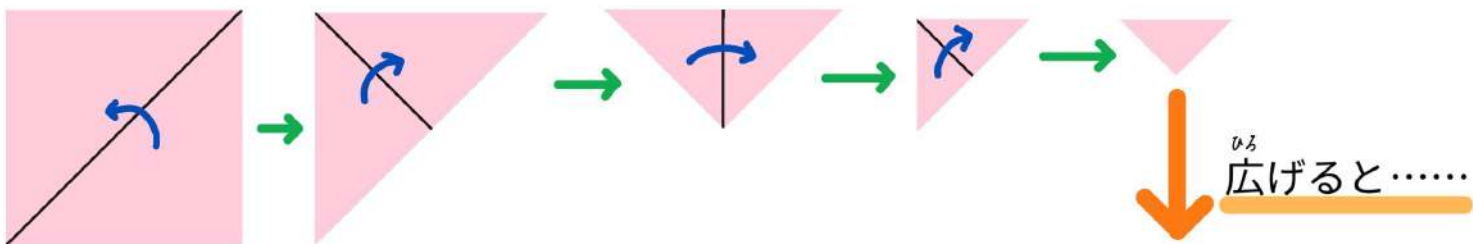
# 正方形は何個？

ひっかけ問題 挑戦してみてください

全学年向け 作成者：大島

折り紙を下のように折りました。

広げると正方形は何個あるでしょう？ 実際にやってみるのもいいかもね！



ヒント①

正方形の大きさはいろいろあるね

ヒント②

正方形の大きさの種類は、4つ



図A



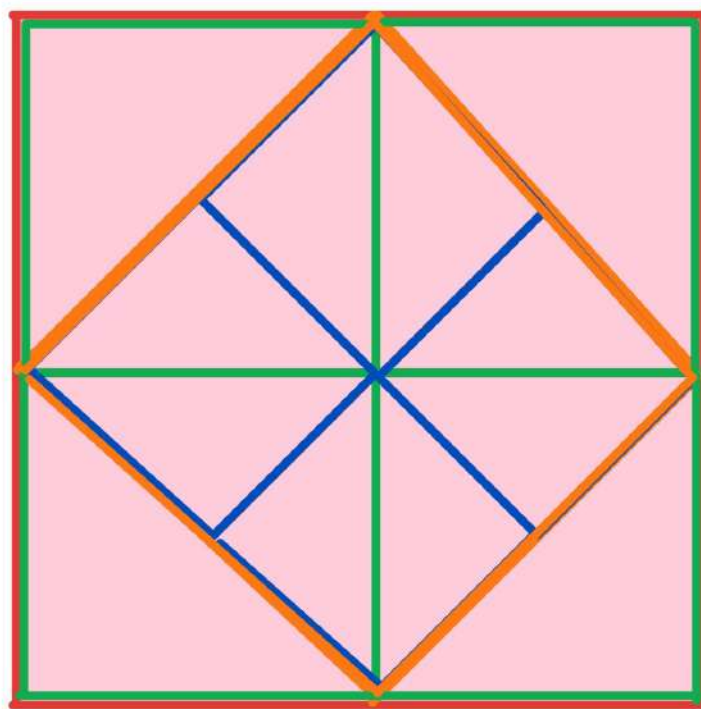

図B



図C




図D



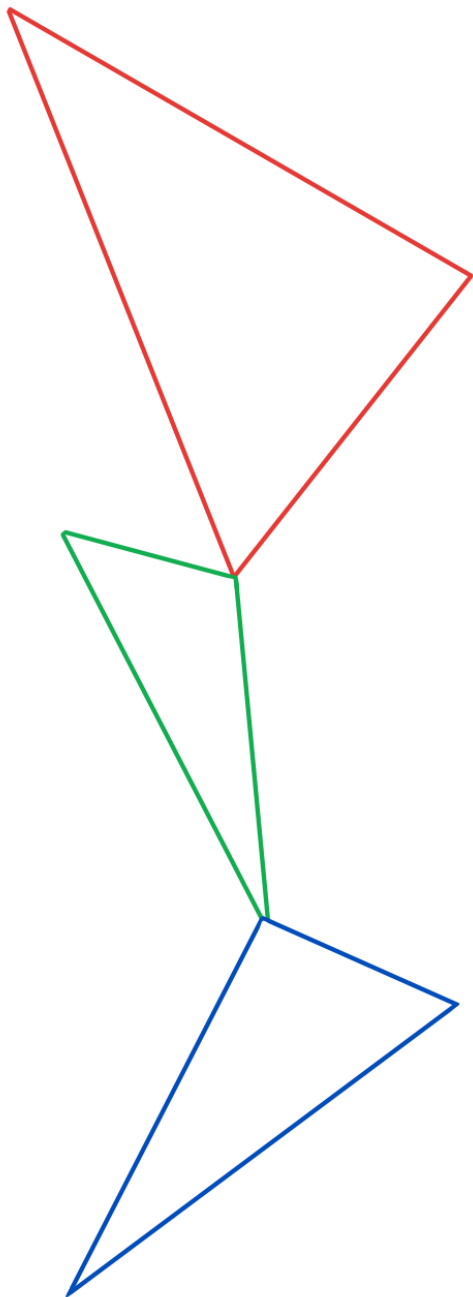
図D………図A

ずけい ほんてん  
図形を反転させてみよう!

例




No.1

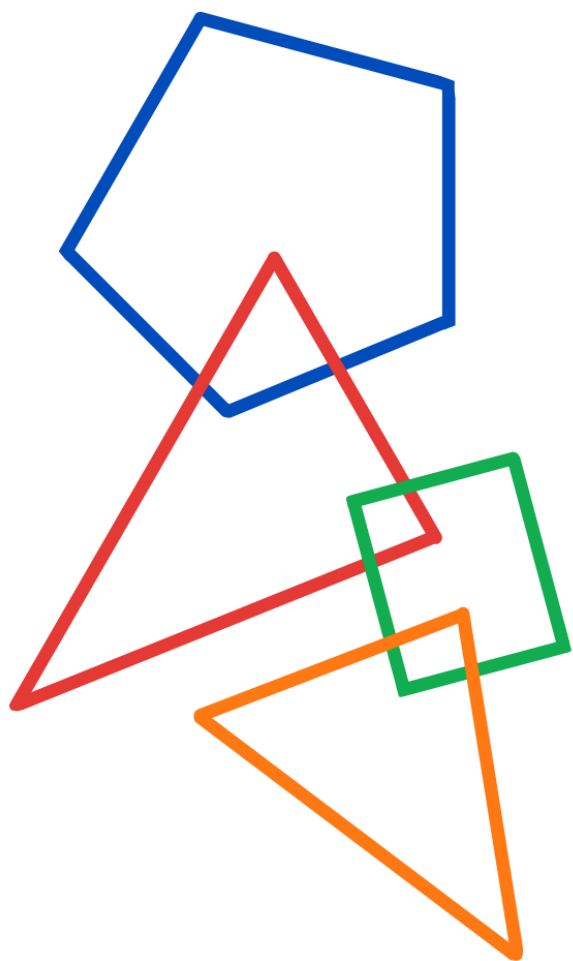


ずけい      ほんてん  
図形を反転させてみよう!

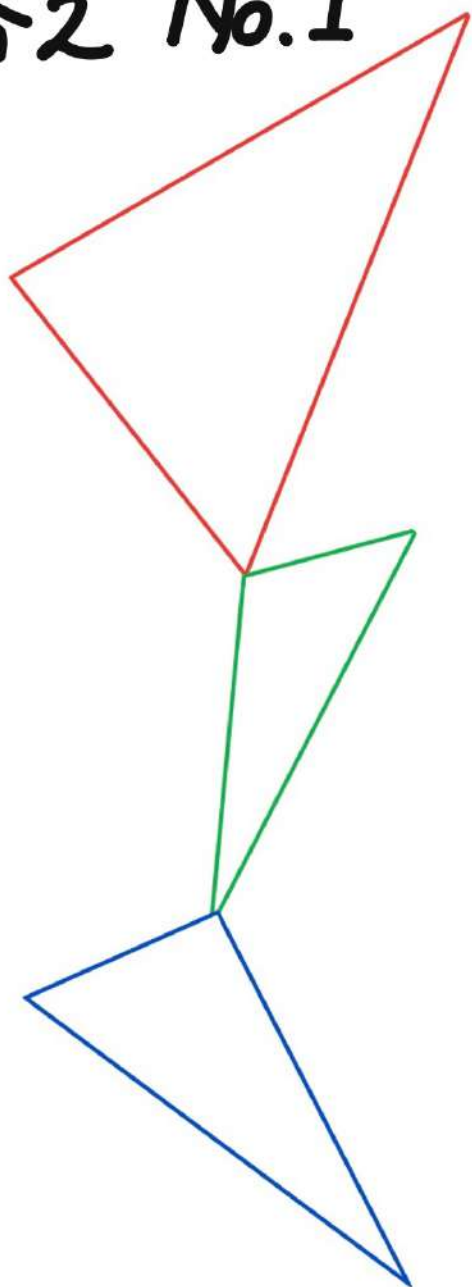
例



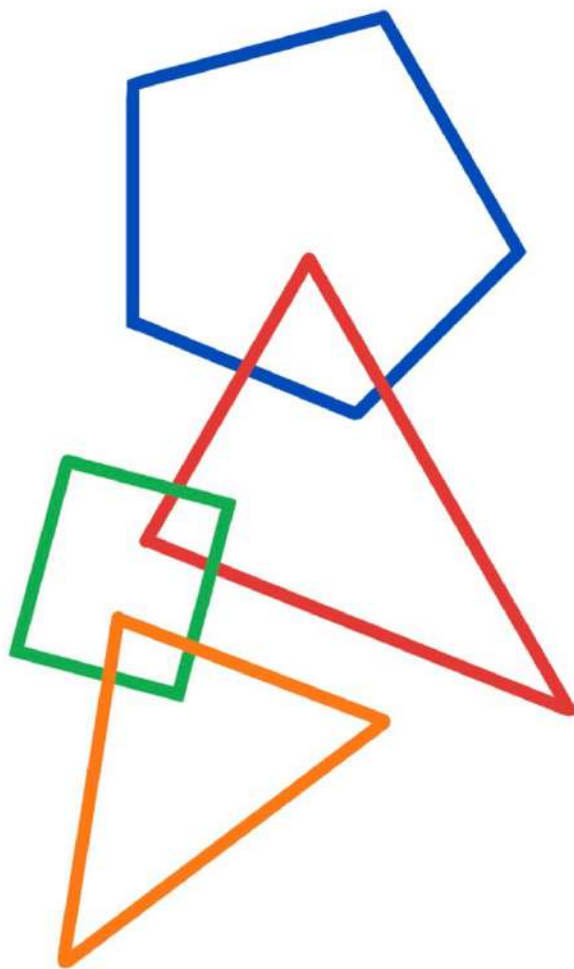
No. 2



正  
答之 No.1



正  
答之 No.2



しょうがっこうていがくねん用

**なぞなぞにちょうせん!**



① クリはクリでも荷物にものつをならう悪いクリはなーに？

② 公園こうえんでだまってそーっと乗のるものはなーに？

③ お正月しょうがつにおわんの中にかくれているウニってなーに？

④ けがをしたときによく見みるタイってなーに？

⑤ 海うみの生きものいの行進こうしんで、いつも9番ばんをつけてならぶ赤いものあかってなーに？

⑥ トラが運転うんてんしている車くるまってなーに？



⑦ だれにでも好すかれる冬ふゆのスポーツってなーに？

⑧ いつも絵えがくっついている家具かぐってなーに？



ざつがく

# 雑学クイズ!!

ね じかん

1. キリンの寝る時間はどれくらいでしょうか？

- ①7時間      ②1時間      ③20分

つの なに

2. サイの角は何からできているのでしょうか？

- ①かみのけ      ②つめ      ③ほね

びょういん

3. コンビニよりもたくさんある病院はどれでしょうか？

- ①歯医者      ②眼科      ③皮膚科

4. 似ている魚であるサケとマス。このちがいはなんのでしょうか？

①はっきりとしたちがいはない

②大きさ

はなら


③歯並び

① 4.      ① 3.      ① 2.      ③ 1. ちが

# 6つのまちがいをさがそう!

対象：小学校低学年

作成：細谷



- こたえ：
- ① ユーホーのなかをみて！ そうじゅうきがこわれて、うちゅうじんがあせっているね。あのひとたすかりそうだ！
  - ② つきのなかが「うさぎ」から「かに」にかわっているね。つきのまようのめえかたは、まじによてちがうよ。ふしきだね。
  - ③ ピンチなひとをみて！ せいかくつしたをはいているね。
  - ④ ヒースしているうちゅうじんをみて！ よりががやいているね々々
  - ⑤ あしがたくさんあるうちゅうじんをみて！ あたまが「サザエさん」だ！
  - ⑥ うでが4ほんあるうちゅうじんをみて！ ゆびが3ほんから5ほんに！



未来ISSEY



今回の  
舞台は  
披雲閣

# ハロウィン イベント

～GBを探せ!～

地図を頼りに  
オリヒメでグッドブラ  
ザーを探してビンゴを  
目指そう!



10月31日(日)  
10:00～15:00

参加したい子は  
看護師さんに伝えてね

挑戦状が届くので  
楽しみにしていてね!

