


グッドブラザーによる **たは(へ)もん**

No.30



小学校高学年用

国旗クイズ!



①()



②()



③()



④()



⑤()



⑥()



⑦()



⑧()



⑨()

⑦～⑨は

どのお国でしょうか...?



作成者:坂東

①日本②中国③アメリカ④フランス⑤ドイツ⑥イギリス⑦フィンランド⑧オーストラリア⑨シンガポール



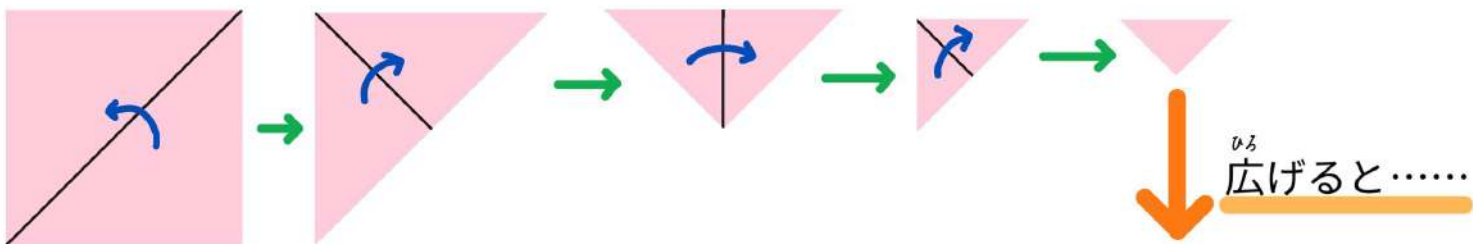
正方形は何個？

ひっかけ問題 挑戦してみてください

全学年向け 作成者：大島

折り紙を下のように折りました。

広げると正方形は何個あるでしょう？ 実際にやってみるのもいいかもね！




ヒント①

正方形の大きさはいろいろあるね

ヒント②

正方形の大きさの種類は、4つ



図A



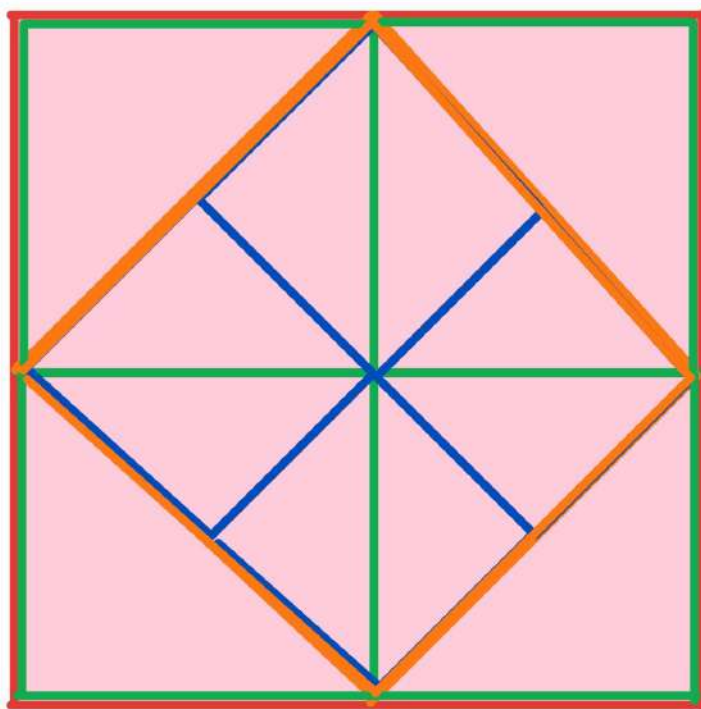

図B



図C




図D



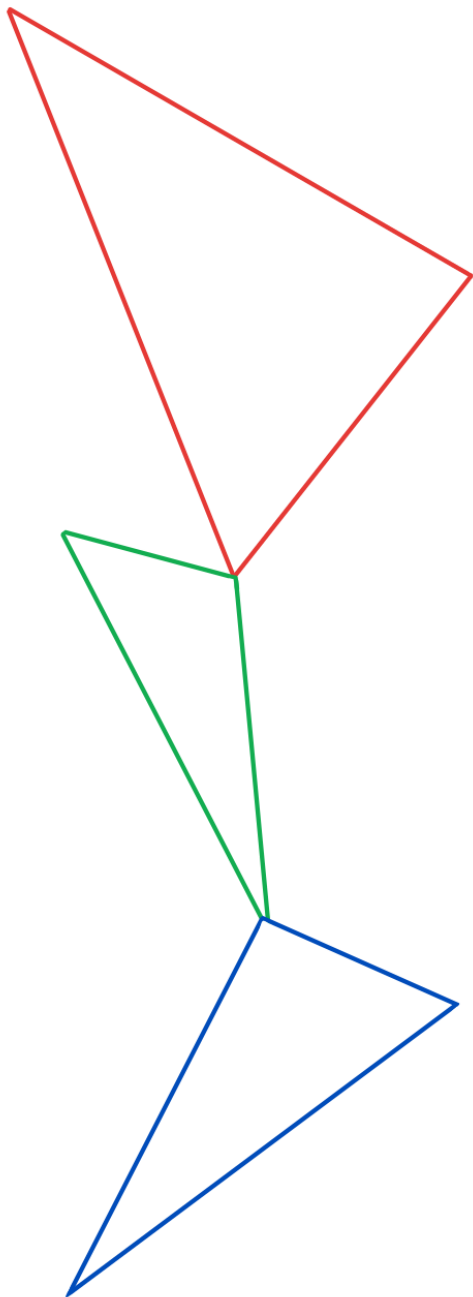
図D………図A

ずけい ほんてん
図形を反転させてみよう!

例




No.1

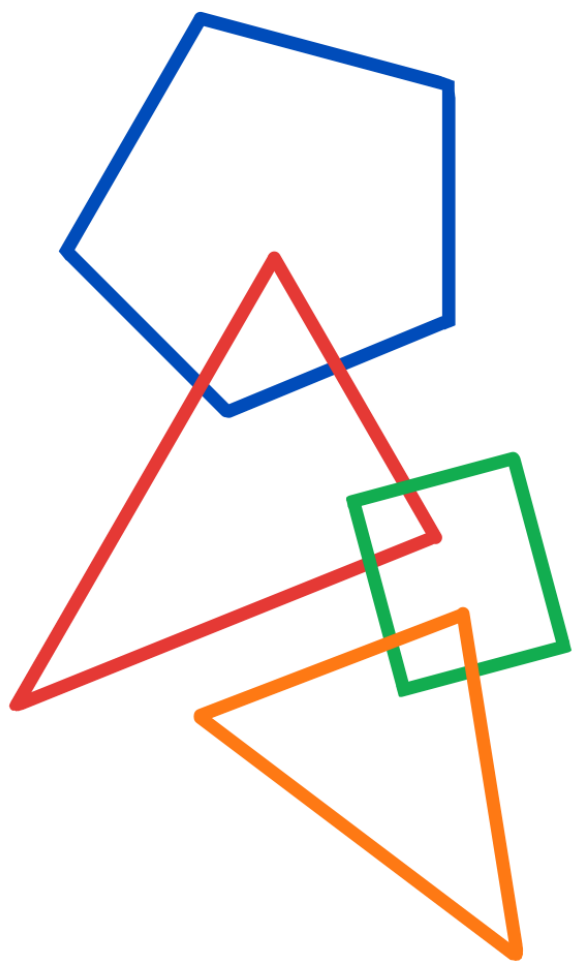


ずけい ほんてん
図形を反転させてみよう!

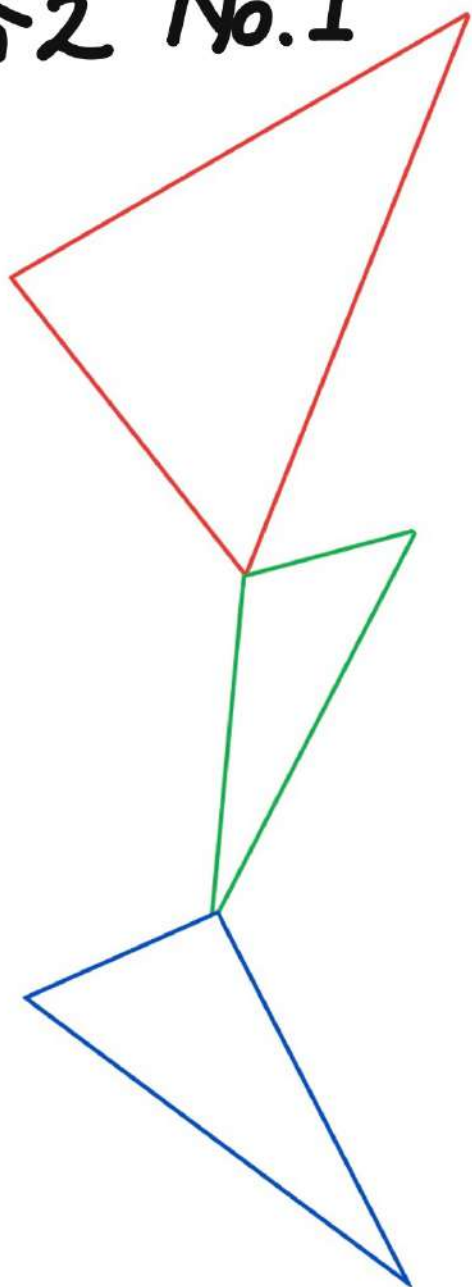
例



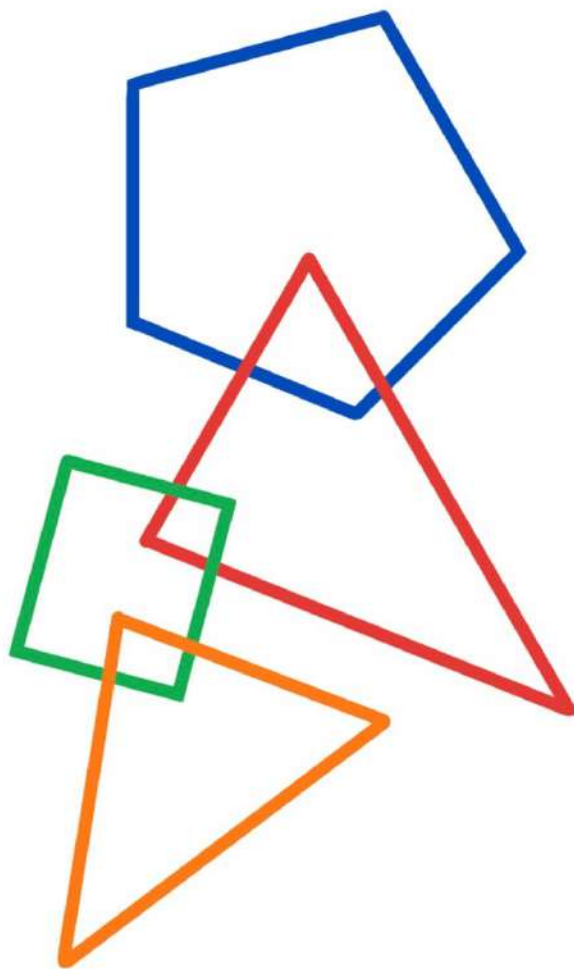
No. 2



正
答之 No.1



正
答之 No.2

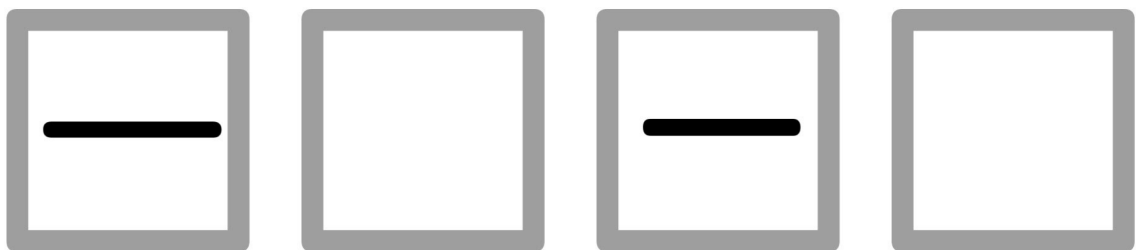


四字熟語クイズ

Q1、言語道断の意味ってなーんだ？

- ① とんでもないこと。もってのほかなこと。
- ② 言葉がなくても心で通じ合えること
- ③ 選択肢がないこと
- ④ 志を持って取り組むこと

Q2、□に入る漢字はそれぞれなーんだ？



意味→ 長所もあるし短所もあること

ざつがく

雑学クイズ!!

ね じかん

1. キリンの寝る時間はどれくらいでしょうか？

- ①7時間 ②1時間 ③20分

つの なに

2. サイの角は何からできているのでしょうか？

- ①かみのけ ②つめ ③ほね

びょういん

3. コンビニよりもたくさんある病院はどれでしょうか？

- ①歯医者 ②眼科 ③皮膚科

4. 似ている魚であるサケとマス。このちがいはなんのでしょうか？

①はっきりとしたちがいはない

②大きさ

はなら

③歯並び

① 4. ① 3. ① 2. ③ 1. ちが

6つのまちがいをさがそう!

対象：小学校低学年

作成：細谷



- こたえ：
- ① ユーホーのなかをみて！ そうじゅうきがこわれて、うちゅうじんがあせっているね。あのひとたすかりそうだ！
 - ② つきのなかが「うさぎ」から「かに」にかわっているね。つきのまようのめえかたは、まじによてちがうよ。ふしきだね。
 - ③ ピンチなひとをみて！ せいかくつしたをはいているね。
 - ④ ヒースしているうちゅうじんをみて！ よりががやいているね々々
 - ⑤ あしがたくさんあるうちゅうじんをみて！ あたまが「サザエさん」だ！
 - ⑥ うでが4ほんあるうちゅうじんをみて！ ゆびが3ほんから5ほんに！

未来ISSEY



今回の
舞台は
披雲閣

ハロウィン イベント

～GBを探せ!～

地図を頼りに
オリヒメでグッドブラ
ザーを探してビンゴを
目指そう!



10月31日(日)
10:00～15:00

参加したい子は
看護師さんに伝えてね

挑戦状が届くので
楽しみにしていてね!

